



Mgr. Alena Lampertová

## Miškov poklad pokladov



V Bratislave, hlavnom meste Slovenska, žil chlapec menom Miško, ktorý od malička túžil po tom, že nájde poklad. Keď vyrástol a oslavoval svoje osemnásť narodeniny, jeho dlhoročný sen ho neopustil a pri sfúkavaní sviečok na torte si v duchu želal: „Prajem si nájsť poklad, ktorý by zmenil môj život. Prajem si nájsť poklad pokladov.“

Pri rozbaľovaní darčiekov sa mu zatajil dych, keď uzrel v škatuli od topánok v hrbe pokrkvanej papierov sklenenú fľašu. Srdce mu začalo biť rýchlejšie, keď zistil, že vo fľaši je zrolovaný papierik. Žiadostivo vytrhol korkový vrchnák z fľaše a vybral starý papier. Nechcel veriť vlastným očiam, keď zbadal, čo tam bolo napísané:

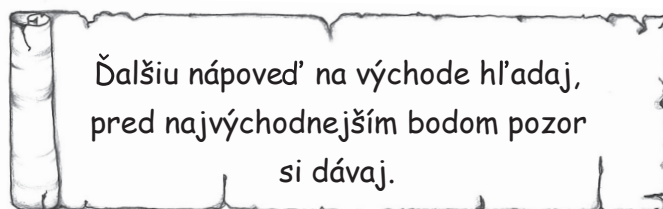
Ak chceš chlapom bohatým byť, do Záhorskej Vsi si lístok musíš kúpiť. Hľadať najzápadnejší bod v rieke Morava, tam ďalšia indícia na povrch ti vypláva.

Neváhal ani chvíľu. Zbalil si pár vecí a vydal sa vlakom na cestu za bohatstvom. Celou cestou premýšľal nad tým, čo ho bude v najzápadnejšom bode Slovenska čakať. Keď dorazil na plánované miesto, z rieky Morava vylovil indíciu, na ktorej bolo napísané:

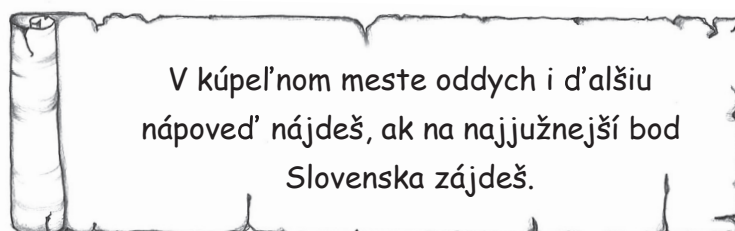
Si v strede rieky Moravy, teraz hľadať najsevernejší bod Oravy.

Vytiahol zo svojho cestovného vaku mapu a našiel, že najsevernejší bod na Slovensku je v obci Oravská Polhora. Rýchlo bežal na autobusovú stanicu

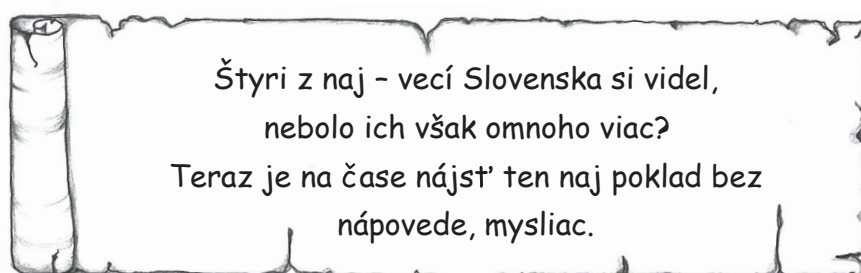
a dopravil sa tam. Po ceste autobusom sa musel vydriapať na Babiu horu, ktorá je najsevernejším bodom Slovenska. Nevedel, kde má indíciu hľadať. Už bol zúfalý, keď si sadol na peň a niečo ho pichlo do stehna. Zistil, že si sadol na ďalšiu indíciu. Bolo tam napísané:



Po prečítaní sa Miško trochu zľakol, ale napriek obavám sa vydal na východné Slovensko. Bol zvedavý, čo ho tam čaká. Až teraz si uvedomil, koľko krás má jeho rodný kraj. Vďaka milým ľuďom dorazil do obce Nová Sedlica. Tam na neho čakal sám starosta, ktorý mu oficiálne odovzdal ďalšiu nápo vedu. Tentoraz to prebehlo napodiv bez veľkej námahy. Na nápo vedi bolo napísané:



Vďaka navigácii našiel Michal mesto Patince, v ktorom sú termálne pramene. Zaslúžene si oddýchol a na cestu sa vydal až na druhý deň. Po raňajkách dostal tanier s podnosom. Keď zdvihol podnos, našiel na ňom nápo ved'. Bola posledná. Rozlúčil sa so všetkými v hoteli a odišiel domov. Celou cestou sa usmieval a s nikým sa nerozprával. Užival si zeleň Slovenska a občas si pískal slovenské ľudovky. Chcete vedieť, čo bolo na poslednej nápo vedi napísané?



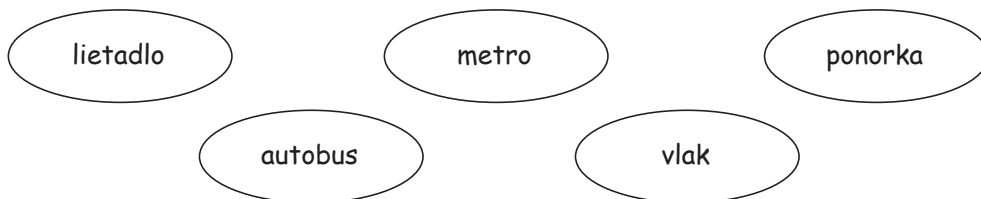
Našiel poklad, ktorý hľadal, pretože sám zistil, že všade je síce dobre, ale doma je najlepšie, pretože ho tam čakal **NAJ**väčší poklad pokladov – jeho milovaná rodina.



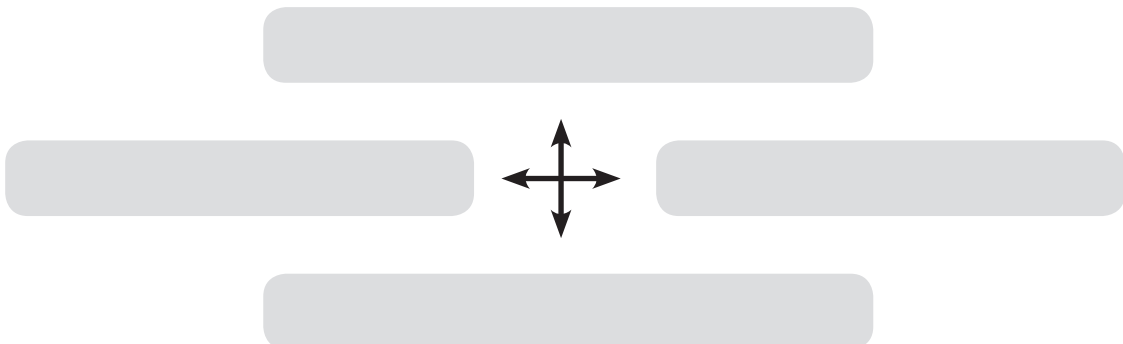
**1. Odkiaľ pochádza Miško?** (Zakrúžkuj písmeno so správnou odpoveďou.)

- a) Košice
- b) Záhorská Ves
- c) Bratislava
- d) Orava

**2. Okrem toho, že Miško chodil po Slovensku pešo, cestoval aj rôznymi dopravnými prostriedkami. Vyfarbi bubliny so všetkými dopravnými prostriedkami, ktoré sú v rozprávke spomenuté.**



**3. Pamätáš si, ktoré mestá navštívil Miško? Dopíš do smerovej ružice názvy miest, ktoré sú najsevernejším, najjužnejším, najvýchodnejším a najzápadnejším bodom na Slovensku. (Pomôž si rozprávkou, ktorú si čítal/-a.)**





**4. Spoj čiarou dopravný prostriedok s príslušným druhom dopravy, do ktorej patrí.**

cestná  
doprava

letecká  
doprava

železničná  
doprava

lodná  
doprava

vlak

čln

trolejbus

vzducholod'

metro

automobil

motocykel

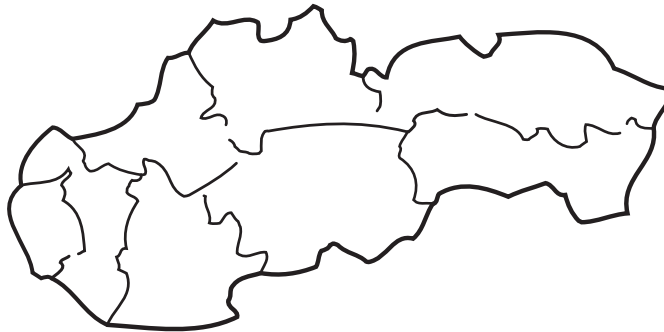
ponorka

autobus

lod'

električka

**5. Miško cestoval po celom Slovensku a spravil si prestávku len na štyroch miestach. Prešiel všetkými ôsmimi krajmí Slovenska. Poznáš ich? Doplň do mapy správnu číslicu podľa názvu kraja. Ak nevieš, pomôž si mapou Slovenska.**



1. Žilinský kraj

5. Prešovský kraj

2. Banskobystrický kraj

6. Trenčiansky kraj

3. Košický kraj

7. Nitriansky kraj

4. Bratislavský kraj

8. Trnavský kraj

**6. Ako by sme sa mali správať v horách? Vyznač, ktoré vety sú pravdivé a ktoré nepravdivé. (Nesprávnu možnosť prečiarkni.)**

Opekáme si nad ohňom len na miestach, ktoré sú na to určené.

**Pravda - Nepravda**

Po všetkých zvieratách hádzeme nebezpečné predmety.

**Pravda - Nepravda**

Oheň aj pahrebu zahasíme predtým, ako odídeme.

**Pravda - Nepravda**

Nezabíjame lesnú zver zo zábavy.

**Pravda - Nepravda**

**7. Usporiadaj písmená v slovách tak, aby slová dávali zmysel.**

MACHIL


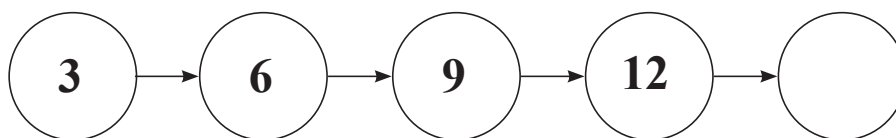
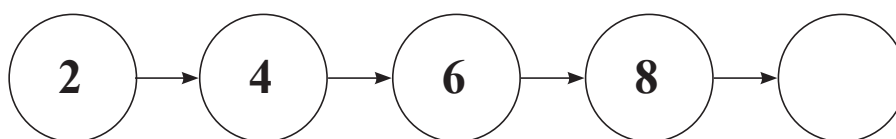
PKLOAD

BAIARTSLVA

MAAP



**8. Okrem prírodovedy a vlastivedy mal Miško veľmi rád matematiku. Najradšej riešil logické úlohy. Doplň do číselného radu ďalšiu číslicu v logickom poradí do prázdnej bubliny.**



**9. Občas sa stane, že dôležité papiere sa roztrhnú. My to však vieme napraviť. Spoj roztrhnuté mapy s ich chýbajúcimi časťami.**

